


**CHUNG EM CHÀO  
MỪNG QUÝ THẦY CÔ  
ĐẾN DỰ GIỜ LỚP 2B.  
CHÚC QUÝ THẦY CÔ  
NHIỀU SỨC KHỎE**





01

# KHỞI ĐỘNG



# Thuyền ai ra khơi ?

1



2



3



4





Hết  
giờ

Bắt đầu

1

$$20 - 9 = 11$$

QUAY VỀ



Hết  
giờ

Bắt đầu

2

$$32 - 17 = 15$$

QUAY VỀ



3

**Bạn được tặng tràng pháo t**

QUAY VỀ





Hết  
giờ

Bắt đầu

4

$$12 + 8 = 20$$

QUAY VỀ

**Thứ sáu ngày 12 tháng 12 năm 2025**

**Toán**

**Em làm được những gì? (tiết 1)**





02

# THỰC HÀNH- LUYỆN TẬP

# 1 Tính nhẩm

CÁ NHÂN



$$9 + 7 = \dots$$

$$6 + 5 = \dots$$

$$4 + 8 = \dots$$

$$12 - 6 = \dots$$

$$11 - 7 = \dots$$

$$10 - 8 = \dots$$

$$50 + 40 = \dots$$

$$80 - 60 = \dots$$

$$70 + 30 = \dots$$



# Chia sẻ

Trình  
bày

Nhận  
xét



# 1 Tính nhẩm

CÁ NHÂN



$$9 + 7 = 16$$

$$6 + 5 = 11$$

$$4 + 8 = 12$$

$$12 - 6 = 6$$

$$11 - 7 = 4$$

$$10 - 8 = 2$$

$$50 + 40 = 90$$

$$80 - 60 = 20$$

$$70 + 30 = 100$$



## 2 Quan sát các phép tính sau

$44 + 48$

$68 - 17$

$80 - 25$

$31 + 9$

a) Xác định các phép tính có nhớ.

b) Đặt tính rồi tính bốn phép tính trên



## 2 Quan sát các phép tính sau

$44 + 48$

$68 - 17$

$80 - 25$

$31 + 9$

a) Xác định các phép tính **có nhớ**.



**Để xác định các phép tính có nhớ ta dựa vào dấu hiệu cộng hoặc trừ qua 10 ở hàng đơn vị và vẫn còn phải cộng hoặc trừ tiếp ở hàng chục.**



**NHÓM  
ĐÔI**

**2** Quan sát các phép tính sau

$44 + 48$

$68 - 17$

$80 - 25$

$31 + 9$

b) Đặt tính rồi tính bốn phép tính trên



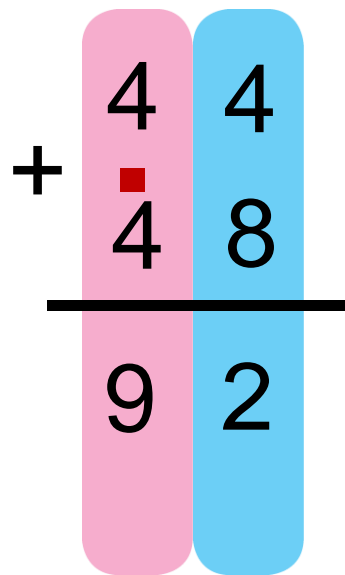
# Chia sẻ

Trình  
bày

Nhận  
xét



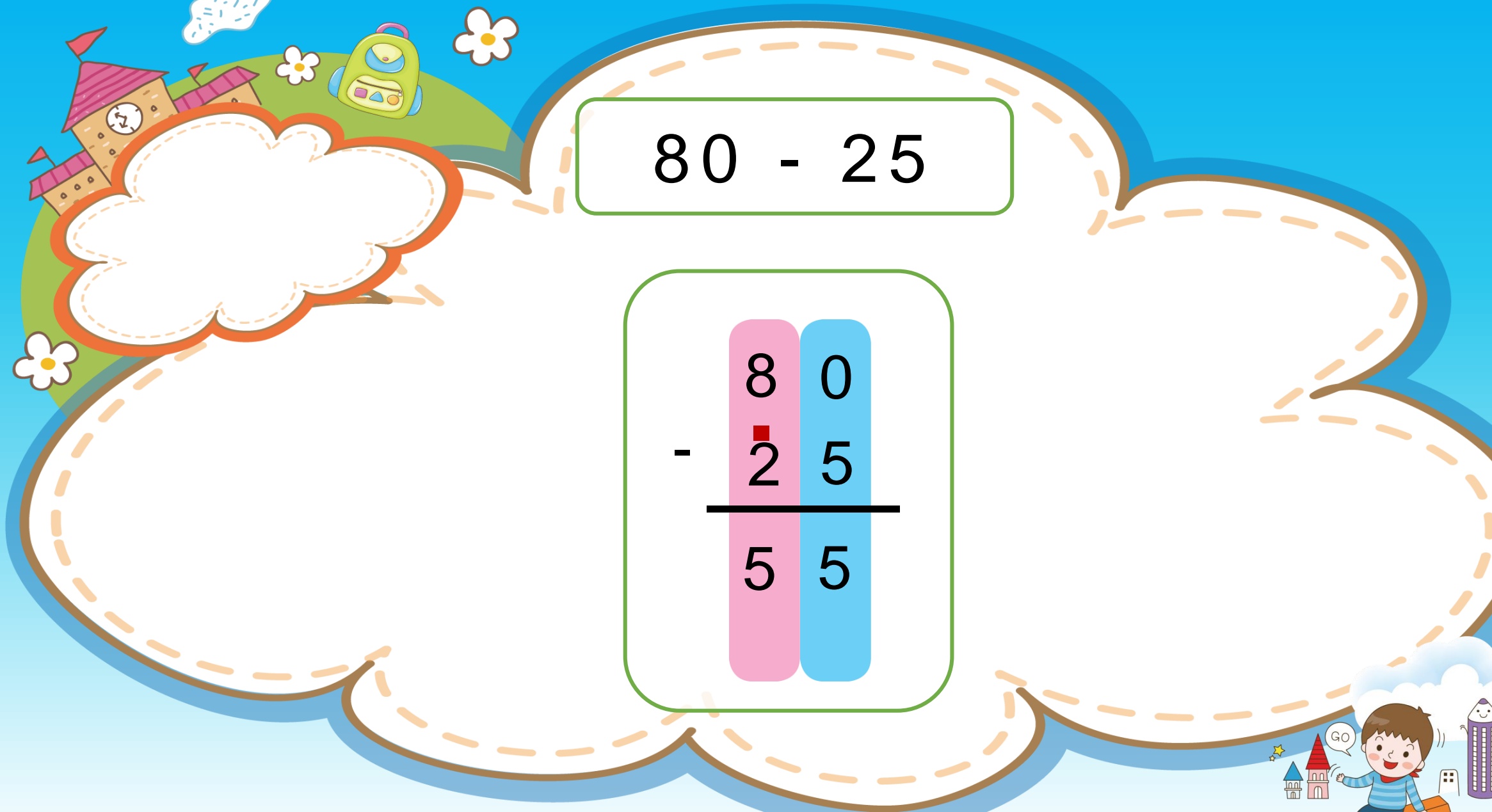

$$44 + 48$$


$$\begin{array}{r} 44 \\ + 48 \\ \hline 92 \end{array}$$

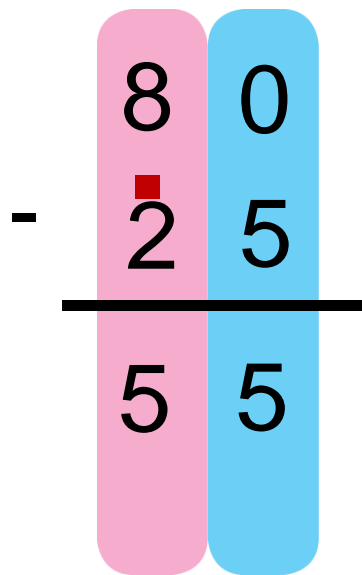



$$68 - 17$$

$$\begin{array}{r} 68 \\ - 17 \\ \hline 51 \end{array}$$



80 - 25



	8	0
-	<span style="border: 1px solid red; padding: 2px;">2</span>	5
<hr/>		
	5	5




$$31 + 9$$

$$\begin{array}{r} 31 \\ + 9 \\ \hline 40 \end{array}$$





# 3 SỐ?



THẢO LUẬN  
NHÓM

Mẫu



# Chia sẻ



Trình  
bày

Nhận  
xét





# 3 SỐ?





03

# VẬN DỤNG

$$32 + 8 - 40 = 0$$




03

# VẬN DỤNG

$$32 + 8 - 40 = 0$$

Bày tỏ  
cảm  
xúc



**Tạm biệt  
Ùà hèn gặp lại**

